

Start. číslo

Naše zásady:

- 1) Jedeme za normálního provozu = **nezávodíme s časem ani rychlostí!**
- 2) **VŽDY** jedeme na směrovkách v itineráři od puntíku k šipce
- 3) Když není křižovatka zakreslena, jedem po hlavní nebo rovně
- 4) **SK** = samokontrola, **PK** = průjezdní kontrola (pořadatel, cedule a vlajka)

Celkem	Rozdíl	Situace	Dodatek
0,0	0,0		
0,5	0,5		
1,7	1,2		OBEC
6,7	5,0		
7,6	0,9		
10,1	2,5		OBEC
10,5	0,4		
10,8	0,3		
11,9	1,1		
12,7	0,8		OBEC
13,1	0,4		OBEC
16,2	3,1		OBEC
16,8	0,6		OBEC
16,9	0,1	SK1 <input checked="" type="checkbox"/>	Jaké zvíře má ve znaku Chrastava?
Odpověď:			

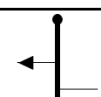
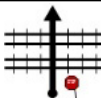

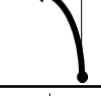






18,5	1,6		
18,9	0,4	A B	Jak se jmenovala první liberecká automobilka? A) TATRA B) RAF
19,2	0,3		
19,8	0,6		OBEC
19,9	0,1		
20,6	0,7		OBEC
20,7	0,1	SK2 <input checked="" type="checkbox"/>	V jakém roce zemřel Anton Pfohl?
Odpověď:			
24,7	4,0		OBEC
27,3	2,6		Usmívej se do foťáku 😊
29,1	1,8		OBEC
29,2	0,1		!!!
29,3	0,1	PK1 <input checked="" type="checkbox"/>	Zaparkuj a vystup z auta!
Čas			

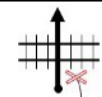

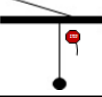


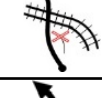

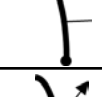
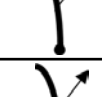

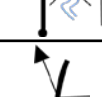
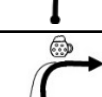
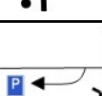






29,4	0,1		Z parkoviště vyjed' směr Frýdlant
Soustřed' se na dopravní značení na svodidlech a tvar silnice - bude se to ještě hodit ☺			
32,6	3,2		!!!
33,4	0,8		OBEC
33,5	0,1		
33,8	0,3		
33,9	0,1		OBEC
34,0	0,1		PK2 <input checked="" type="checkbox"/>
34,0	0,0		
36,8	2,8		!!!
36,9	0,1		OBEC
38,2	1,3		
38,6	0,4		OBEC
40,0	1,4		OBEC
		PK3 <input checked="" type="checkbox"/>	
41,4	1,4		OBEC
41,5	0,1		

42,1	0,6		
42,1	0,0		OBEC
43,4	1,3		
43,9	0,5		OBEC
44,1	0,2		HASIČI
44,2	0,1		OBEC
46,4	2,2		OBEC
47,4	1,0		!!!
48,0	0,6		OBEC
50,0	2,0		OBEC
50,1	0,1		
50,8	0,7		OBEC
54,0	3,2		
54,3	0,3		OBEC
54,5	0,2		
55,0	0,5		OBEC
59,6	4,6		
62,2	2,6		



62,6	0,4		OBEC
62,7	0,1		!
62,9	0,2		OBEC !
64,5	1,6		OBEC
64,6	0,1		
65,0	0,4		
65,2	0,2		OBEC
65,7	0,5	SK3 <input checked="" type="checkbox"/>	Jaký je název kříže po pravé straně?
Odpověď:			
66,3	0,6		OBEC
67,3	1,0	SK4 <input checked="" type="checkbox"/>	Jak se jmenuje vyhlídka se sochou čerta napravo?
Odpověď:			
68,5	1,2		OBEC
69,1	0,6		
69,4	0,3		 PAUZA 20 min
69,4	0,0		Vyjed' z P směr Hejnice

69,6	0,2		OBEC
69,8	0,2		OBEC
70,4	0,6		
70,6	0,2		
72,1	1,5		
73,5	1,4		
76,4	2,9		
76,5	0,1		
77,0	0,5		Zamávej znovu na STK a jed' dál
77,7	0,7		Ignoruj zákaz vjezdu přes most - neplatí
79,0	1,3		
79,3	0,3		
79,5	0,2		Za mostem vlevo zaparkuj a hledej organizátora 
79,6	0,1		
80,4	0,8		OBEC
82,0	1,6		Objed' STK zleva, čeká Tě PK4!
TB PK4	<input checked="" type="checkbox"/>		

